



UNIVERSIDADES PÚBLICAS DE LA COMUNIDAD DE MADRID
EVALUACIÓN PARA EL ACCESO A LAS ENSEÑANZAS
UNIVERSITARIAS OFICIALES DE GRADO

Curso **2020-2021**

MATERIA: GEOGRAFÍA

INSTRUCCIONES GENERALES Y CALIFICACIÓN

Después de leer atentamente el examen, responda a cuatro preguntas cualesquiera a elegir entre las ocho que se proponen.

TIEMPO Y CALIFICACIÓN: 90 minutos. Cada pregunta se calificará sobre 2,5 puntos.

A.1. (2,5 puntos). Tema: “Rasgos generales del relieve español peninsular”.

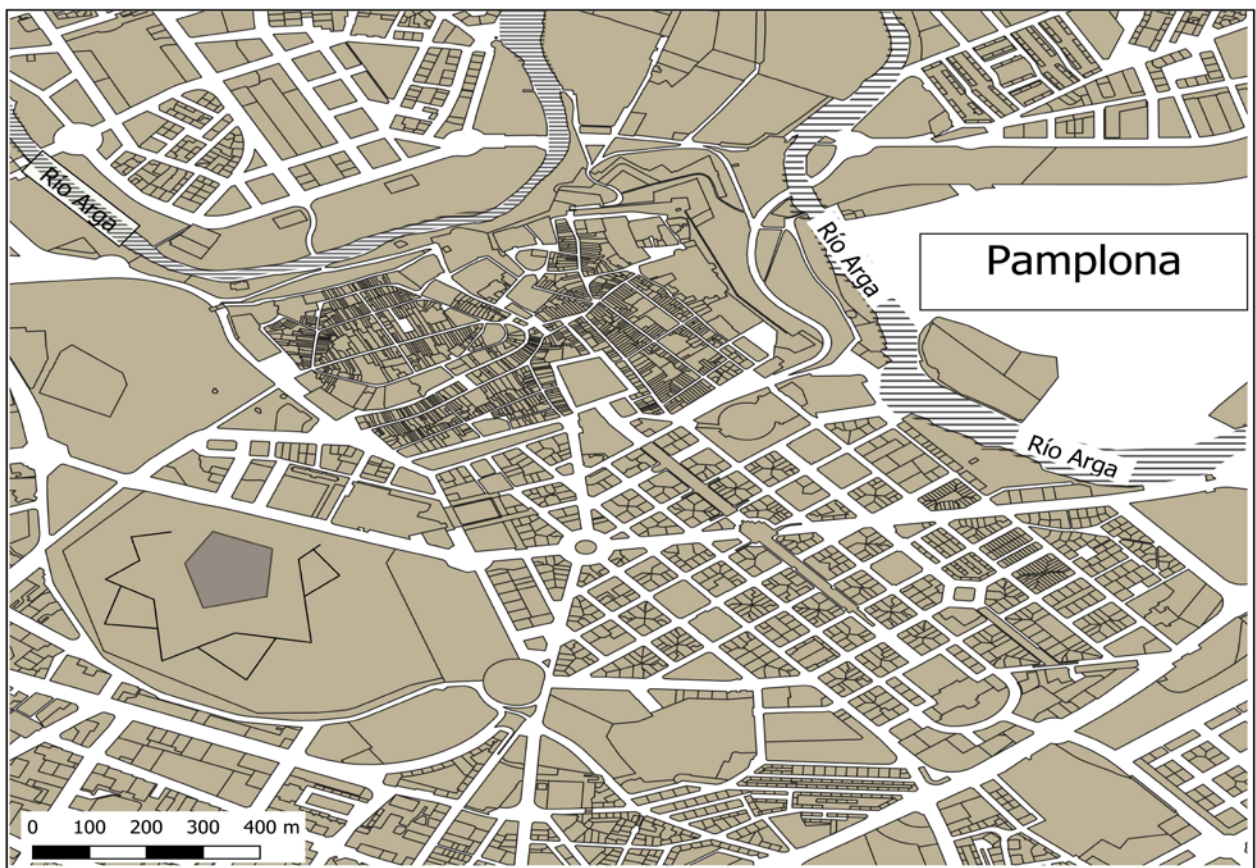
Desarrolle, de manera sintética, el tema propuesto atendiendo a los siguientes apartados (utilice, como máximo, una cara de un folio):

1. Configuración general del relieve español peninsular.
2. Grandes unidades del relieve español peninsular.

A.2. (2,5 puntos). Defina con precisión **cinco** de los ocho **conceptos** siguientes (escriba, como máximo, una cara de un folio):

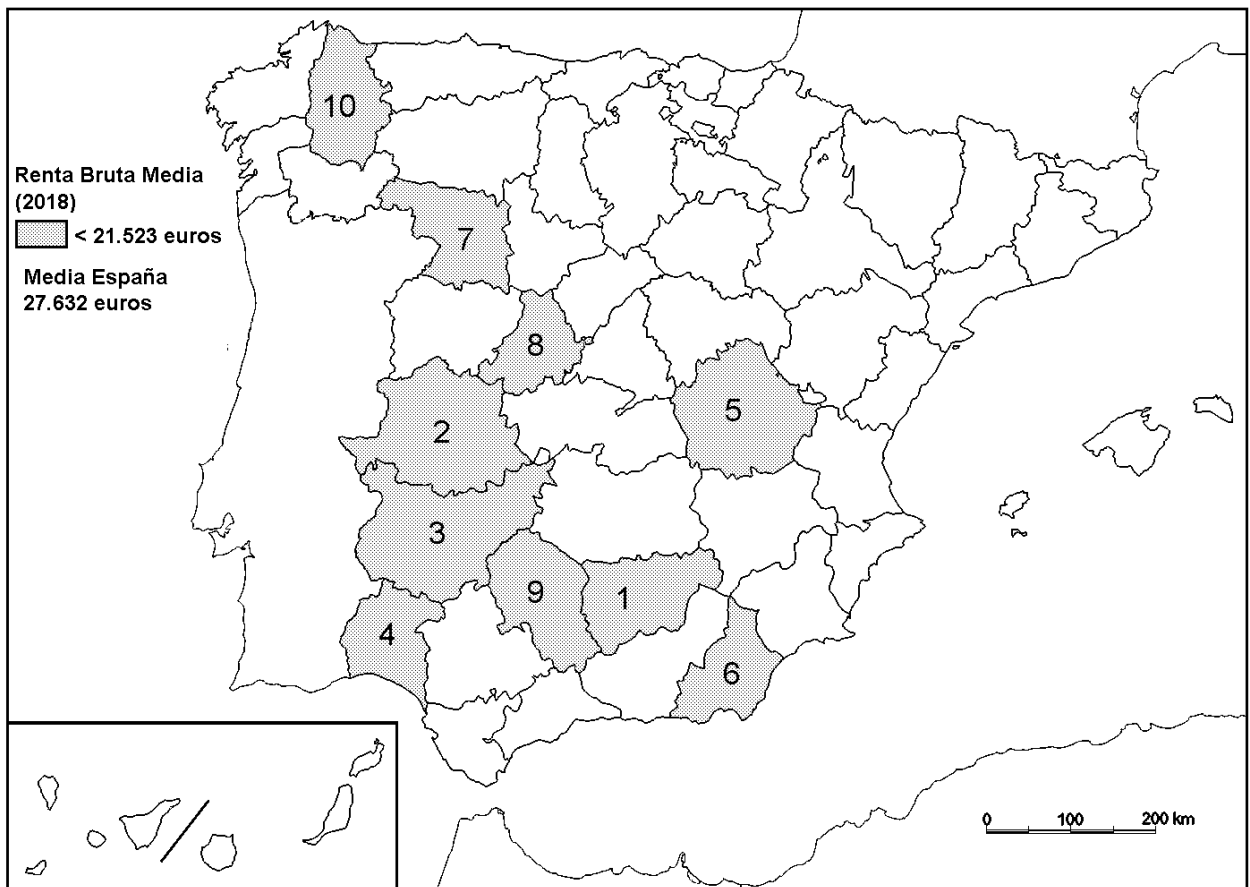
Aridez; cauce; latitud geográfica; robledal; borrasca; garriga; meandro; escala del mapa.

A.3. (2,5 puntos). A la vista del plano de Pamplona, describa las unidades morfológicas que en él se aprecian y explique los factores de esta estructura de la ciudad.



Fuente: Cartociudad IGN (modificado)

A.4. (2,5 puntos). A la vista del mapa adjunto “**Provincias con renta media bruta inferior a 21.523 euros, (2018)**”, indique el nombre de las provincias numeradas y señale las posibles causas de esta distribución.



Fuente: AEAT(Agencia Tributaria Española)

B.1. (2,5 puntos). Tema: “La red hidrográfica y las aguas peninsulares: vertiente atlántica”

Desarrolle, de manera sintética, el tema propuesto atendiendo a los siguientes apartados (utilice, como máximo, una cara de un folio):

1. Enumere y describa la extensión y localización de los principales ríos y cuencas fluviales.
2. Comente sus regímenes fluviales y sus caudales.

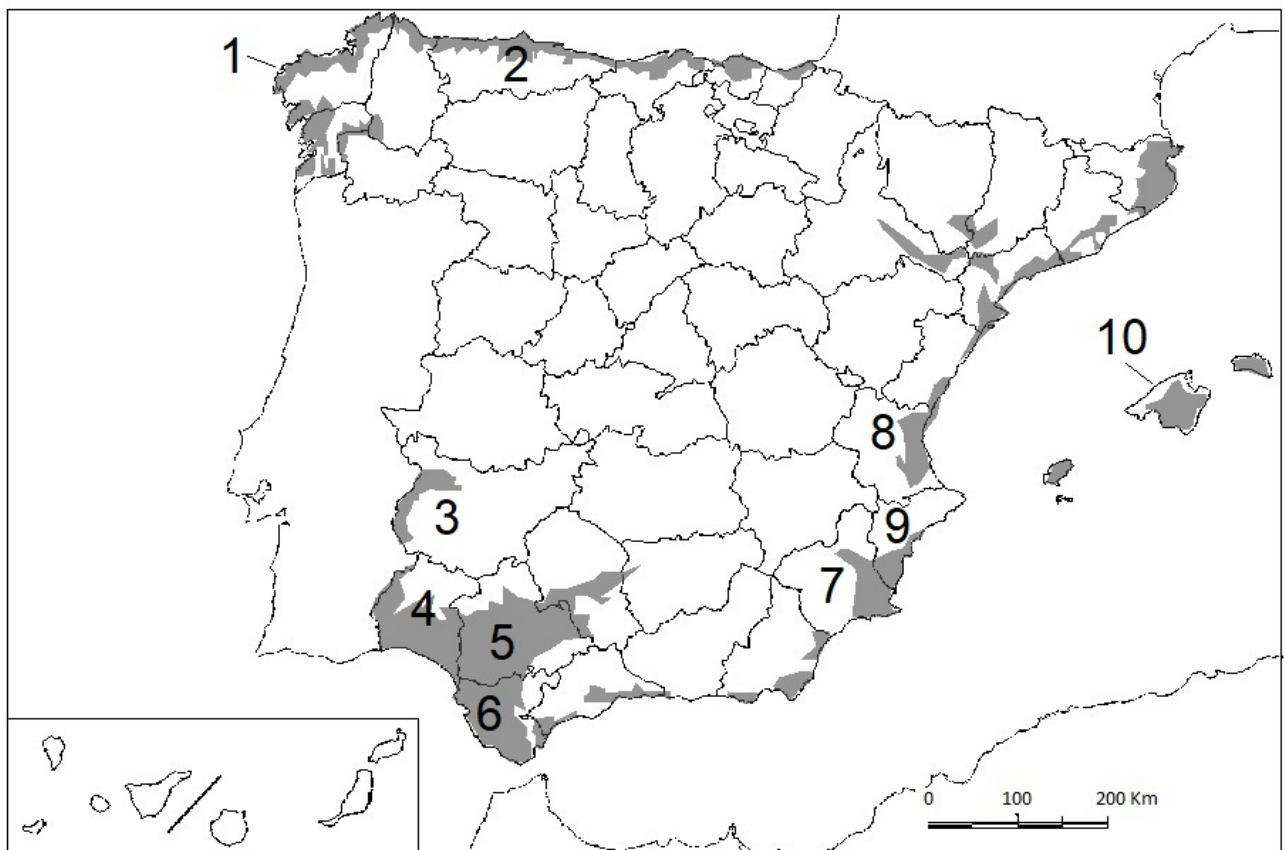
B.2. (2,5 puntos). Defina con precisión **cinco** de los ocho **conceptos** siguientes (escriba, como máximo, una cara de un folio):

Densidad de población; altitud; paralelo; área metropolitana; tasa de envejecimiento; ecuador terrestre; saldo migratorio; ensanche.

B.3. (2,5 puntos). Comente la **fotografía adjunta** atendiendo, si procediese, al siguiente orden:

1. Elementos del medio físico.
2. Elementos del medio humano.
3. La relación entre ellos.
4. Indique el tipo de paisaje geográfico que muestra la fotografía.

B.4. (2,5 puntos). A la vista del mapa adjunto: “**Península y Baleares. Áreas con altitud inferior a los 200 metros**”, indique el nombre de las provincias numeradas y la posible explicación de este rasgo altimétrico.



Fuente: IGN (modificado)



Orihuela (Alicante)

GEOGRAFÍA

CRITERIOS ESPECÍFICOS DE CORRECCIÓN

A) CRITERIO GENERAL:

La puntuación total será de **10 puntos**.

B) CRITERIOS CONCRETOS:

Preguntas A.1 y B.1: 2,5 puntos.

Trata del “*desarrollo de un tema*”, valorando fundamentalmente la ordenación, la coherencia expositivo-argumentativa, la claridad, la precisión y la organización sintética de los conocimientos, junto con la correcta localización, la comprensión y caracterización de los fenómenos geográficos que se suman al grado y profundidad de los conocimientos. El tema podrá ser planteado a partir de imágenes, gráficos, mapas u otros recursos visuales. **La puntuación asignada a esta pregunta se distribuirá equitativamente entre los subepígrafos del enunciado.** Los coordinadores comunicarán a los correctores las orientaciones específicas de corrección.

Preguntas A.2 y B.2: 2,5 puntos.

Definición de una serie de *términos geográficos y conceptos*. Las respuestas deberán valorarse con un criterio amplio, ya que son numerosas las posibilidades expresivas correctas. En todo caso, se atenderá a la precisión geográfica en la caracterización del término o concepto, y a la claridad conceptual. Se podrá complementar la definición con un dibujo explicativo. Se asignará 0,50 puntos por cada uno de los cinco términos preguntados, de los ocho que se proponen.

Preguntas A.3 y B.3: 2,5 puntos.

Según la opción elegida por el estudiante, deberá: A) Comentar una noticia o un gráfico vinculados a uno de los temas de la geografía de España, donde se valorará preferentemente, la capacidad de relación entre la actualidad y los contenidos estudiados; B) Interpretar una imagen de paisaje geográfico. Se valorará con criterio amplio las respuestas a los epígrafes enunciados en la pregunta.

Preguntas A.4 y B.4: 2,5 puntos.

Esta parte consta de una pregunta de localización con base en un mapa. Se valorará la localización del hecho cartografiado, y su correcta interpretación causal. **Cada localización correcta de las diez posibles tendrá un valor de 0,10 puntos.**

En las cuatro partes de que consta la prueba, se considerarán elementos de ponderación; v.gr.: la calidad de la redacción, la corrección expositivo-argumentativa, la gramatical y la ortográfica.

GEOGRAFÍA
SOLUCIONES
(Documento de trabajo Orientativo)

Pregunta A.1. (2,5 puntos)

Esta pregunta es de la tipología c: “Abierta”, conforme a la Orden PCM/139/2020, por lo que el contenido siguiente tiene un carácter indicativo.

Tema: “Rasgos generales del relieve español peninsular”.

1. Configuración general del relieve español peninsular

Rasgos básicos:

- a) Forma maciza, derivada de la anchura de la Península (1094 km de este a oeste) y por sus costas poco recortadas que limitan la penetración del efecto termorregulador del mar hacia el interior.
- b) Elevada altitud media, solo superada en Europa por Suiza. Coexisten zonas de relieve con el interior en forma de meseta, pero con altitudes significativas.
- c) Disposición periférica del relieve en torno a la Meseta, lo que limita la influencia marina y tiene como consecuencia las marcadas diferencias entre las zonas litorales y las interiores.

2. Grandes unidades del relieve español peninsular.

- a) Meseta. Unidad fundamental. Llanura elevada. Zócalo y relieve de penillanuras. Bloques elevados: Sistema Central y Montes de Toledo. Bloques hundidos: Submesetas. Paisaje de páramos, campiñas y cuevas; b) Cordilleras periféricas o rebordes montañosos de la Meseta como el Macizo Galaico-Leonés, la Cordillera Cantábrica, el Sistema Ibérico y Sierra Morena; c) Cordilleras exteriores como los Pirineos, con una estructura simétrica norte-sur (axial, prepirineo y depresiones), los Montes Vascos, calizos, la Cordillera Costero-Catalana, formada por dos alineaciones paralelas a la costa mediterránea, y las Béticas, que se caracterizan por su gran complejidad geológica y la existencia de conjuntos diferenciados: Penibética, Subbética y Depresión Intrabética; d) Depresiones interiores como la del Ebro, cerrada y colmatada por sedimentos continentales, paralela a los Pirineos y con piedemontes, o la del Guadalquivir, paralela a las Béticas, con un relieve de campiñas.

Pregunta A.2 y B.2 (2,5 puntos)

- Se asignará 0,5 puntos a cada explicación válida de los términos elegidos con referencia a su acepción geográfica. El/La corrector/a se servirá de las acepciones geográficas de las definiciones del diccionario de la RAE, o, en su caso de diccionarios o glosarios geográficos publicados.
- En el caso de acrónimos y/o de siglas no solamente bastará con explicitar su nombre, sino que será necesaria su explicación, aunque sea de manera breve.
- Las respuestas erróneas ni puntúan, ni penalizan.
- Cuando las respuestas sean parcialmente correctas y/o incompletas se asignarán 0,25 puntos.

Pregunta A.3. (2,5 puntos)

Plano de Pamplona

El plano corresponde a la ciudad de Pamplona, capital de la Comunidad Foral de Navarra. Se aprecian en él los siguientes elementos:

- 1) **El casco antiguo.** En un emplazamiento defensivo aprovechando el trazado sinuoso del río Arga. La proximidad al río es un componente defensivo de importancia en el periodo histórico de las edades Antigua, Media y Moderna. El casco antiguo contiene diferentes partes:
 - a) La situada al Este se corresponde con el origen de la ciudad como fuerte romano (la antigua *Pompeo*). El trazado rectangular del mismo es fácilmente observable.
 - b) La parte situada al Oeste tiene una estructura hexagonal (el burgo de San Cernín). Entre medias de ambos sectores medievales se sitúa la actual Plaza del Castillo.
- 2) En el flanco meridional, al carecer de una defensa natural, se aprecia **un baluarte** con un diseño propio de la Edad Moderna (S.XVI), hoy utilizado como parque urbano.
- 3) Al sur se observa la presencia del **ensanche**. Un plano regular de manzanas de grandes dimensiones, adoptando una solución de diagonal similar a la de Barcelona. Corresponde a la ciudad que se desarrolla desde finales del XIX hasta mediados del XX y está asociada a la burguesía. La potencia de esta clase social se equipara a la amplia dimensión superficial de esta unidad de ensanche en relación al casco antiguo.
- 4) Más al sur de la ciudadela y en los sectores de la orilla septentrional del río Arga la heterogeneidad del plano nos habla de distintas **promociones urbanas**. En algunas zonas (por ejemplo al sur del mismo o en el extremo nororiental), la uniformidad en la disposición de los edificios y la estrechez de las calles entre ellos parece indicar la presencia de **barrios de protección oficial**. Característicos de finales de los cincuenta y principios de los sesenta, estos barrios obedecían a políticas de alojamiento de la población trabajadora.

Pregunta A.4. (2,5 puntos)

La primera parte de la pregunta es cerrada, (localización); la segunda parte es abierta, por lo que los ítems señalados en ella son a título indicativo.

1) Jaén, 2) Cáceres, 3) Badajoz, 4) Huelva; 5) Cuenca, 6) Almería, 7) Zamora; 8) Ávila 9) Córdoba, 10) Lugo.

Cada acierto 0,10 puntos. No se penalizarán errores de localización.

Explicación causal y de las consecuencias, si procede, de la distribución espacial de dicho fenómeno que se muestra en el mapa. Se valorará con un máximo de 1,5 puntos.

Ítems

- Desigualdad territorial de la riqueza y desarrollo económico en España.
- Manifestado aquí por la renta bruta media, inferior a la media, en su nivel provincial.
- Solo Extremadura tiene sus dos provincias en este intervalo.
- Resto de provincias en regiones más agrícolas que rurales. En general rentas agrarias, son menores que las de otros sectores económicos.
- Otras explicaciones.

Pregunta B.1. (2,5 puntos).

Esta pregunta es de la tipología c: “Abierta”, conforme a la Orden PCM/139/2020, por lo que el contenido siguiente tiene un carácter indicativo.

Tema: “La red hidrográfica y las aguas peninsulares: vertiente atlántica”

Desarrolle, de manera sintética, el tema propuesto atendiendo a los siguientes apartados (utilice, como máximo, una cara de un folio):

1.- Enumere y describa la extensión y la localización de los principales ríos y cuencas fluviales

Los ríos cantábricos y gallegos (Bidasoa, Nervión, Sella, etc.) son en general de corto recorrido por la proximidad de las cadenas montañosas al mar. Destaca por su extensión el río Miño y su afluente el Sil.

El río Duero, el de mayor cuenca de la Península, drena la submeseta norte.

Los ríos Tajo y Guadiana se extienden por buena parte de la Meseta en las comunidades de Madrid, Castilla La Mancha y Extremadura.

El Guadalquivir, que desde la Sierra de Cazorla atraviesa las provincias de Córdoba y Sevilla para desembocar en el Atlántico

Los ríos que desembocan en el Golfo de Cádiz como el Tinto-Odiel o el Guadalete, de corto recorrido por la proximidad de la cadenas Béticas al mar.

2.- Comente su regímenes fluviales y sus caudales

Los ríos cantábricos y gallegos salvan fuertes desniveles y se caracterizan por un elevado caudal específico y por su régimen hídrico marcadamente regular (pluviales y pluvio-nivales), vinculado a las precipitaciones abundantes y repartidas a lo largo del año.

En general, el resto de ríos se cuentan entre los más largos y de cuencas más extensas de la Península, salvo los ríos que desembocan en el Golfo de Cádiz, cuyo régimen hídrico está marcado por la irregularidad y la presencia de ramblas.

El río Duero presenta un régimen pluvio-nival y es el más caudaloso de la Península.

Los ríos Tajo y Guadiana se caracterizan por regímenes pluvio-nivales y pluviales respectivamente. El primero es el más largo de la Península con unos afluentes más caudalosos en su margen derecha (Jarama, Alberche, Tiétar, etc.). El Guadiana, por su parte, es un río poco caudaloso.

Por último, el Guadalquivir tiene un régimen pluvial y es bastante caudaloso, aunque como casi todos los ríos mediterráneos se caracteriza por su irregularidad.

Pregunta B.3. (2,5 puntos)

Orihuela (Alicante)

Se valorará la pregunta atendiendo a los siguientes criterios fundamentales: identificación e interpretación correcta de los elementos visibles, los aspectos lógicos deducidos de los mismos y la clasificación del tipo o tipos de paisaje.

Pregunta B.4. (2,5 puntos)

La primera parte de la pregunta es cerrada, (localización); la segunda parte es abierta, por lo que los ítems señalados en ella son a título indicativo.

1) La Coruña\ A Coruña, 2) Asturias, 3) Badajoz, 4) Huelva; 5) Sevilla, 6) Cádiz, 7) Murcia, 8) Valencia\València, 9) Alicante\Alacant 10) Islas Baleares\Illes Balears.

Cada acierto 0,10 puntos. No se penalizarán errores de localización.

Explicación causal y de las consecuencias, si procede, de la distribución espacial de dicho fenómeno que se muestra en el mapa. Se valorará con un máximo de 1,5 puntos.

Ítems

- Escasa extensión de la llanura < a 200 metros, en España debido a su conformación en la que predomina una gran meseta.
- Llanuras , inferior a 200 metros en valles fluviales, mas extensas en las depresiones exteriores.
- Numerosas, aunque con poco desarrollo hacia el interior de llanuras litorales. El mayor adentramiento de estas llanuras, se produce en la costa de Huelva y Cadiz, así como a lo largo del valle del Guadalquivir.
- Existencia de relieves periféricos determinan igualmente la poca extensión hacia el interior de las llanuras litorales.