



UNIVERSIDADES PÚBLICAS DE LA COMUNIDAD DE MADRID
EVALUACIÓN PARA EL ACCESO A LAS ENSEÑANZAS
UNIVERSITARIAS OFICIALES DE GRADO

Curso **2017-2018**

MATERIA: GEOGRAFÍA

INSTRUCCIONES GENERALES Y CALIFICACIÓN

Después de leer atentamente todas las preguntas, el alumno deberá escoger **una** de las dos opciones propuestas y responder a las cuestiones de la opción elegida.

CALIFICACIÓN: El valor de las preguntas se asigna al final de su enunciado.

TIEMPO: 90 minutos.

OPCIÓN A

SECCIÓN TEÓRICA

1ª Parte: Tema “Los rebordes montañosos de la Meseta”.

Desarrolle, de manera sintética, el tema propuesto atendiendo a los siguientes apartados (utilice, como máximo, una cara y media de un folio).

1. Identificación y situación.
2. Evolución geológica.

Puntuación máxima: 2,5 Puntos

2ª Parte: Defina con precisión ocho de los diez **conceptos** siguientes (escriba, como máximo, una cara de un folio):

Inflación, Ganadería extensiva, Energía renovable, Turismo rural, Explotación forestal, Cultivos hidropónicos, Renta per cápita, Economía sumergida, Exportación, Latitud geográfica.

Puntuación máxima: 2 Puntos

SECCIÓN PRÁCTICA

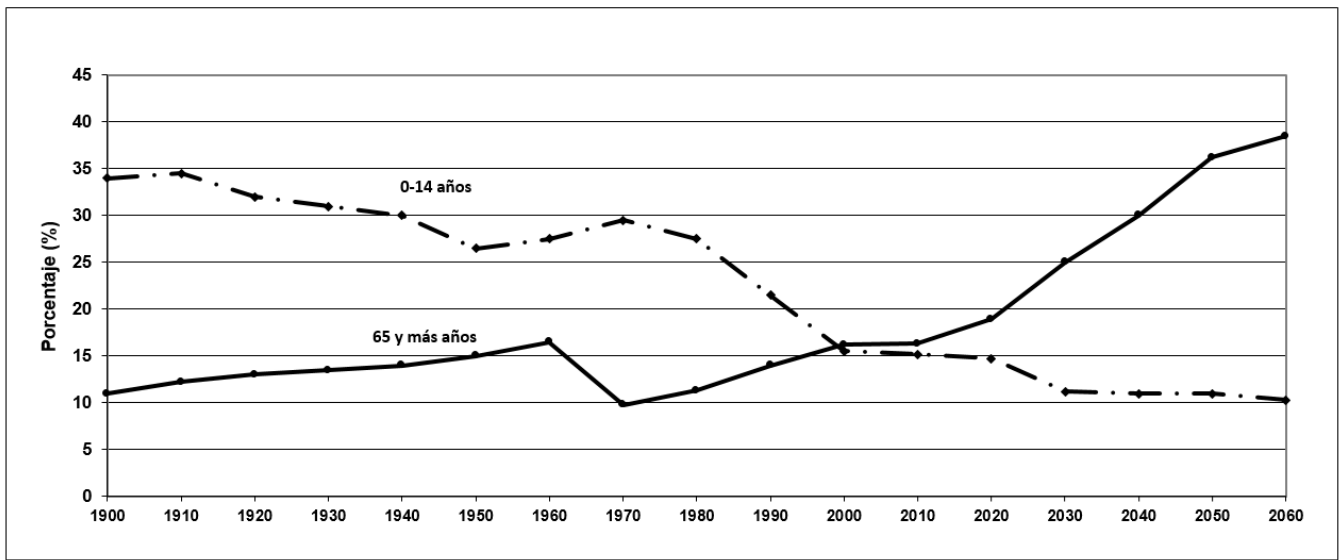
3ª Parte: Comente la **lámina etiquetada con la Opción A**, en el siguiente orden:

1. Elementos del medio físico.
2. Elementos del medio humano.
3. La relación entre ellos.
4. Indique el tipo de paisaje geográfico que muestra la fotografía.

Puntuación máxima: 1,5 Puntos

4ª Parte: Explique la evolución de los dos grandes grupos de edad, argumentando las causas de ésta, así como las predicciones que refleja el gráfico **“Evolución y proyección de los porcentajes de población infantil y de mayores de 65 años”**.

“Evolución y proyección de los porcentajes de población infantil y de mayores de 65 años”.

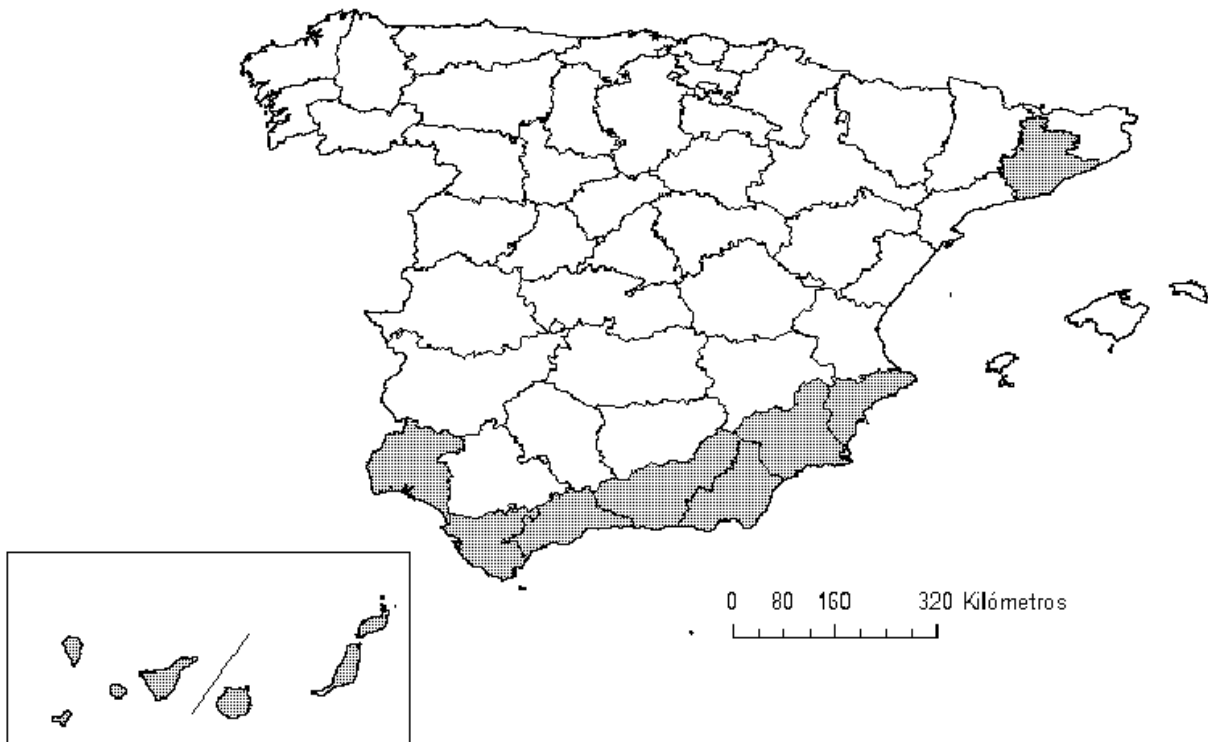


FUENTE: INFORME 2014 Las Personas Mayores en España. (Modificado) IMSERSO.

Puntuación máxima: 2 Puntos

5ª Parte: A la vista del mapa adjunto, **“Provincias con mayor superficie de tierras de cultivo de invernadero (2016)”**, indique el nombre de las provincias tramadas y comente las posibles causas de este hecho.

PROVINCIAS CON MAYOR SUPERFICIE DE TIERRAS DE CULTIVO DE INVERNADERO (2016)



FUENTE: Ministerio de Agricultura, Pesca, Alimentación y Medio Ambiente. Encuesta sobre superficie y rendimientos (2016).

Puntuación máxima: 2 Puntos

OPCIÓN B

SECCIÓN TEÓRICA

1ª Parte: Tema “Los bosques de la España peninsular”.

Desarrolle, de manera sintética, el tema propuesto atendiendo a los siguientes apartados (utilice, como máximo, una cara y media de un folio)

1. Tipos de bosques y su distribución.
2. Principales problemas de conservación derivados de la acción humana.

Puntuación máxima: 2,5 Puntos

2ª Parte: Defina con precisión ocho de los diez **conceptos** siguientes (escriba, como máximo, una cara de un folio):

Censo, Hábitat disperso, Xenofobia, Casco antiguo, Sobremortalidad, Cima, Tasa de paro, Inmigrante, Suburbio, Era Paleozoica.

Puntuación máxima: 2 Puntos

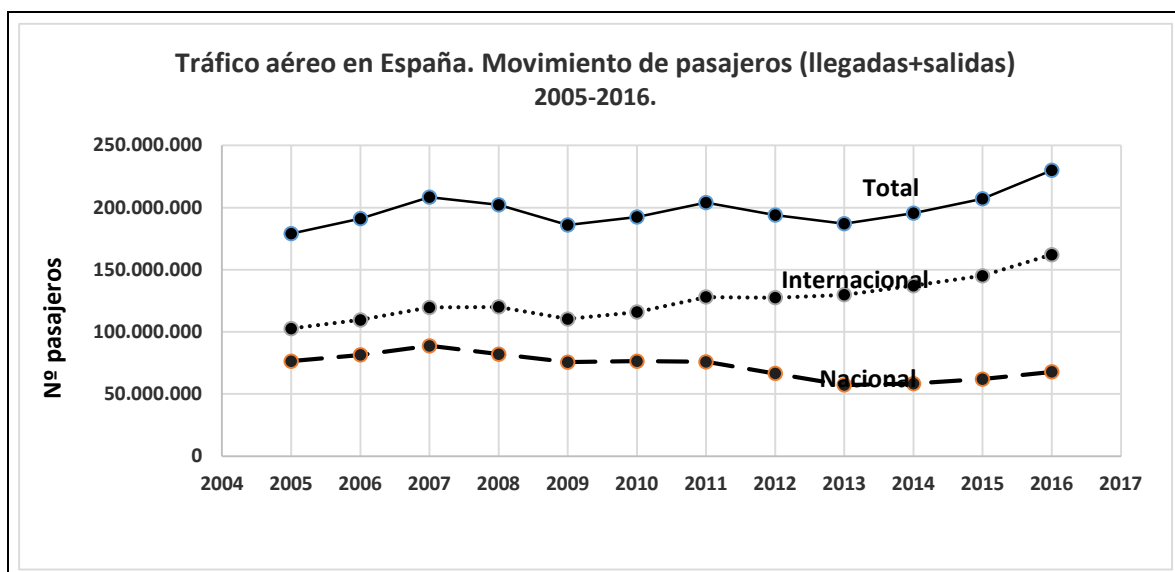
SECCIÓN PRÁCTICA

3ª Parte: Comente la **lámina etiquetada con la Opción B**, en el siguiente orden:

1. Elementos del medio físico.
2. Elementos del medio humano.
3. La relación entre ellos.
4. Indique el tipo de paisaje geográfico que muestra la fotografía.

Puntuación máxima: 1,5 Puntos

4ª Parte: Comente la evolución del tráfico aéreo en España y las posibles razones que lo justifican ayudándose del gráfico “**Tráfico aéreo en España. Movimiento de pasajeros 2005-2016**”.



Fuente: Ministerio de Fomento.

Puntuación máxima: 2 Puntos

5ª Parte: A la vista del mapa adjunto, **“Provincias con un Producto Interior Bruto per cápita, en la rama Industria Manufacturera, inferior a 1411 euros/año. Año 2014”** (media en España 3.029 euros), indique el nombre de las provincias tramadas, y señale algunas de las explicaciones de este hecho.



Fuente: INEBASE 2017

Puntuación máxima: 2 Puntos

GEOGRAFÍA

CRITERIOS ESPECÍFICOS DE CORRECCIÓN Y CALIFICACIÓN

A) CRITERIO GENERAL:

La puntuación total será, en ambas pruebas, de **10 puntos**. Cada Opción tiene una **Sección Teórica formada por las partes 1 y 2 (4,5 puntos)** y una **Sección Práctica formada por las partes 3, 4 y 5 (5,5 puntos)**, correspondiendo a la primera parte **2,5 puntos**; a la segunda **2 puntos**; a la tercera **1,5 puntos**, a la cuarta, **2 puntos**, y a la quinta parte **2 puntos**. La estructura y los criterios de **corrección** serán los siguientes, tanto para la **Opción A** como para la **Opción B**.

B) CRITERIOS CONCRETOS:

1ª parte: 2,5 puntos

Trata del “*desarrollo de un tema*”, valorando fundamentalmente la ordenación, la estructuración, la coherencia expositivo-argumentativa, la claridad, la precisión y la organización sintética de los conocimientos, junto con la correcta localización, la comprensión y caracterización de los fenómenos geográficos que se suman al grado y profundidad de los conocimientos. **La puntuación asignada a esta pregunta se distribuirá equitativamente entre los subepígrafos del enunciado.**

2ª parte: 2 puntos

Definición de una serie de *términos geográficos y conceptos*. Las respuestas deberán valorarse con un criterio amplio, ya que son numerosas las posibilidades expresivas correctas. En todo caso, se atenderá a la precisión geográfica en la caracterización del término o concepto, y a la claridad conceptual.

3ª parte: 1,5 puntos

El estudiante ha de interpretar una imagen de paisaje geográfico. Las respuestas deberán valorarse con un criterio amplio, ya que son numerosas las posibilidades expresivas correctas.

4ª parte: 2 puntos

Se propone “*el comentario de un documento geográfico, gráfico, estadístico*”.

5ª parte: 2 puntos

Se valorará la localización del hecho cartografiado, así como su correcta explicación. **Cada localización correcta de las diez posibles tendrá un valor de 0,10 puntos.**

En las cinco partes de que consta la prueba, se considerarán elementos de ponderación; v.gr.: la calidad de la redacción, la corrección expositivo-argumentativa, la gramatical y la ortográfica.

GEOGRAFÍA

LÁMINA OPCIÓN A



LÁMINA OPCIÓN B

